
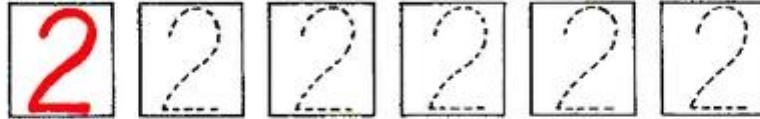





Всем ли зайчикам хватит морковок?
Сколько осталось лишних морковок?





Клоун должен взять мячики под номером 1 и 2.
Покажи эти мячики.
Сколько всего мячиков он возьмет?





Соедини цифры и точки
с нужным количеством предметов.

1 2 3

1 2 3


Покажи самый большой арбуз и самый маленький.



Покажи самую высокую девочку и самую низкую.



Покажи самый длинный шарф и самый короткий.




Покажи самый толстый карандаш и самый тонкий.



<http://www.liveinternet.ru/users/maknika/>


Покажи самую низкую елочку, среднюю, самую высокую. Какой грибок под какой елочкой растет?



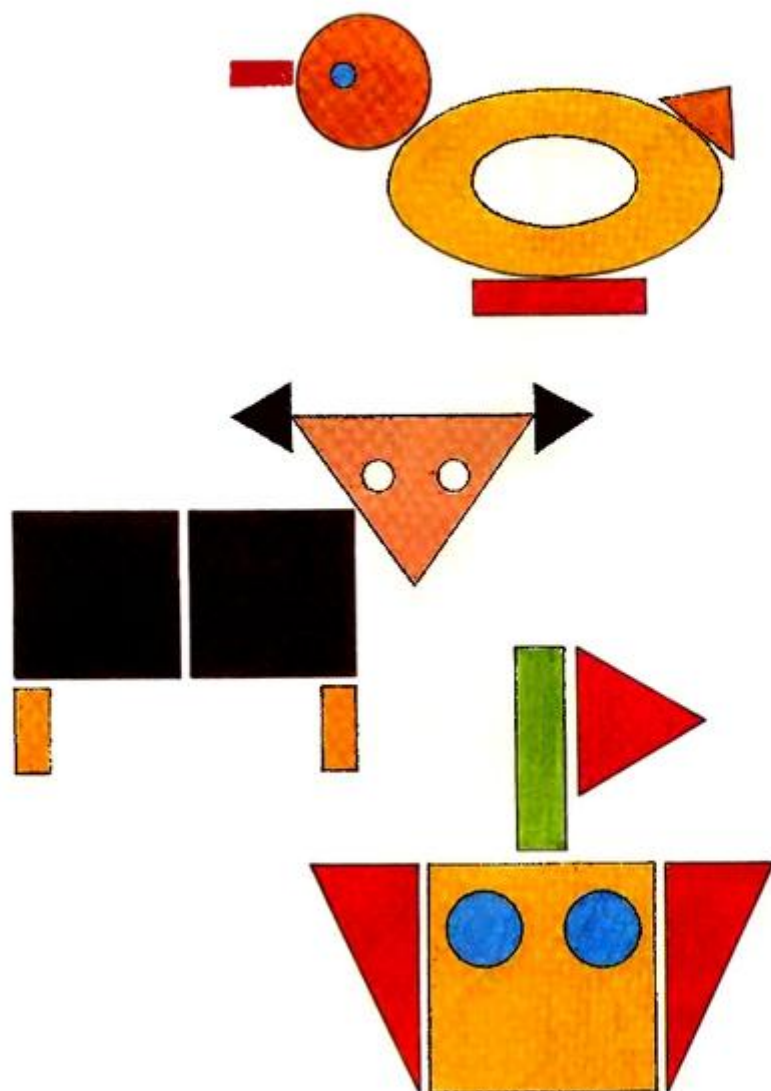
Покажи, какая бабочка на какой цветок сядет?
Покажи самую большую бабочку,
среднюю, самую маленькую.



На какие фигуры в рамочке похожи эти предметы?
Назови эти фигуры.



Из каких фигур составлены картинки?



<http://www.liveinternet.ru/users/maknika/>